

さんすう

直線を ひこう

な  
ま  
え

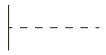
くみ

ばん


s\_zu201\_1

◆ つぎの <sup>なが</sup>長さの <sup>ちよくせん</sup>直線を |----から ひきましよう。


① 7cm



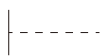
② 4cm5mm



③ 12cm8mm



④ 62mm



さんすう

三角形や 四角形をかこう

なまえ

くみ

ばん

Blank box for drawing or notes.

s\_zu202\_1

1 点と点を直線でつないで、三角形をあと2つかきましょう。

(れい)

A 15x10 grid of dots. A triangle is drawn with its top vertex at the 2nd dot from the top and its base between the 4th and 6th dots from the left. The label '(れい)' is written to the left of the triangle.

2 点と点を直線でつないで、四角形をあと2つかきましょう。

(れい)

A 15x10 grid of dots. A quadrilateral is drawn with its top side between the 2nd and 4th dots from the left, its bottom side between the 1st and 4th dots from the left, and its right side between the 4th and 6th dots from the left. The label '(れい)' is written to the left of the quadrilateral.

さんすう

# 長方形をかこう

なまえ

くみ

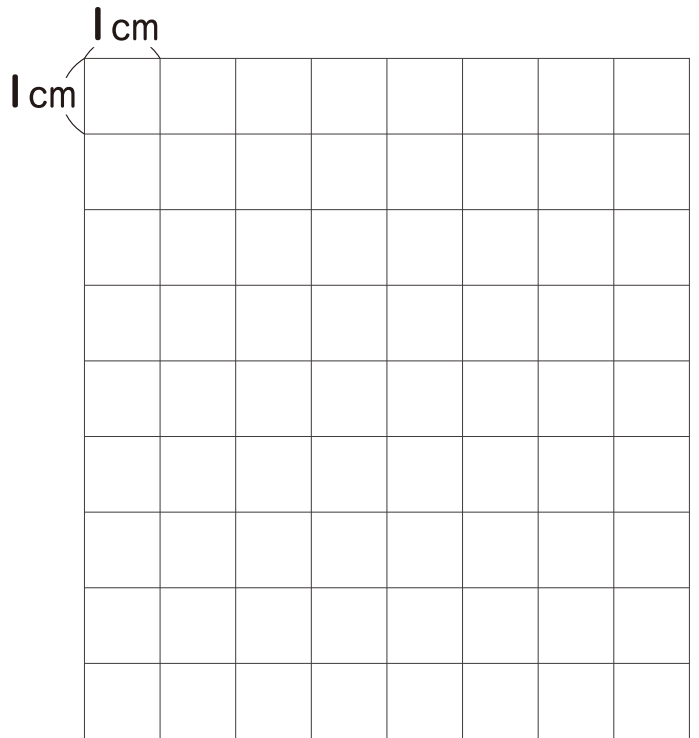
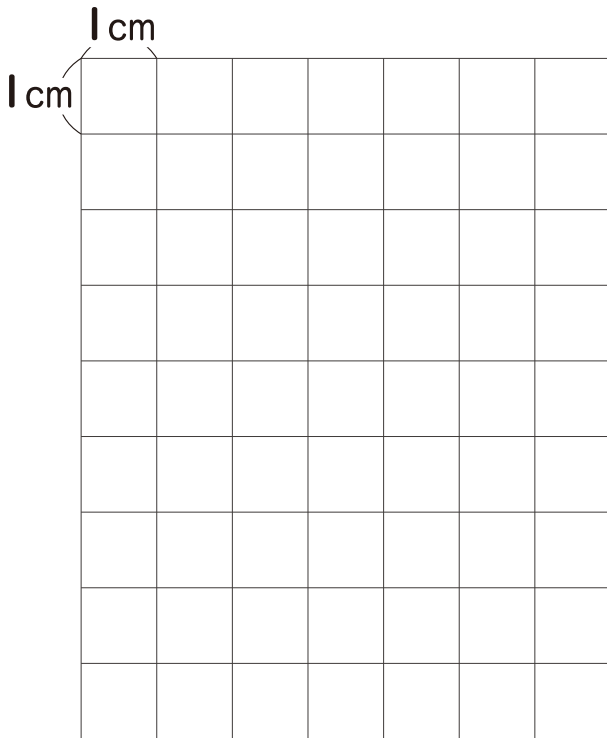
ばん

s\_zu203\_1

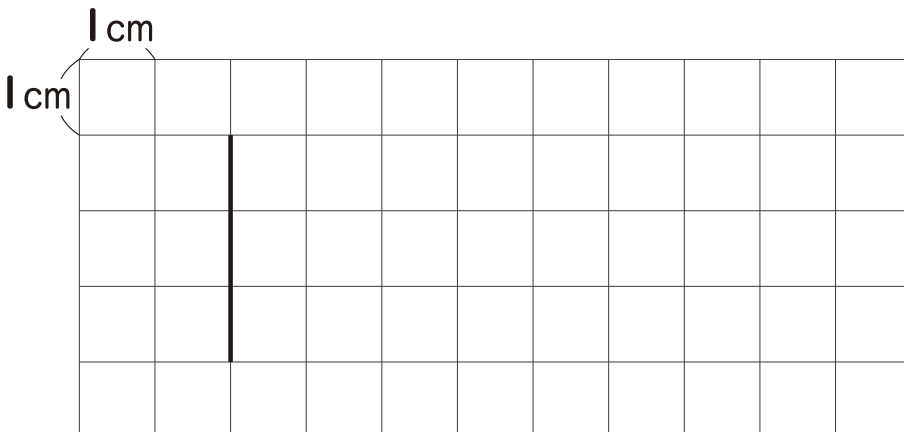
◆ つぎの <sup>かたち</sup> 形をかきましょう。

① たて **4cm**, よこ **5cm** の   
 ちようほうけい 長方形

② たて **7cm**, よこ **6cm** の   
 長方形



③ **3**つの <sup>なが</sup> へんをかきたして、まわりの <sup>なが</sup> 長さが **22cm** の 長方形をかきましょう。



長方形の  
むかい合っている  
へんの長さは  
おな 同じだね。

さんすう

正方形をかこう

なまえ

くみ


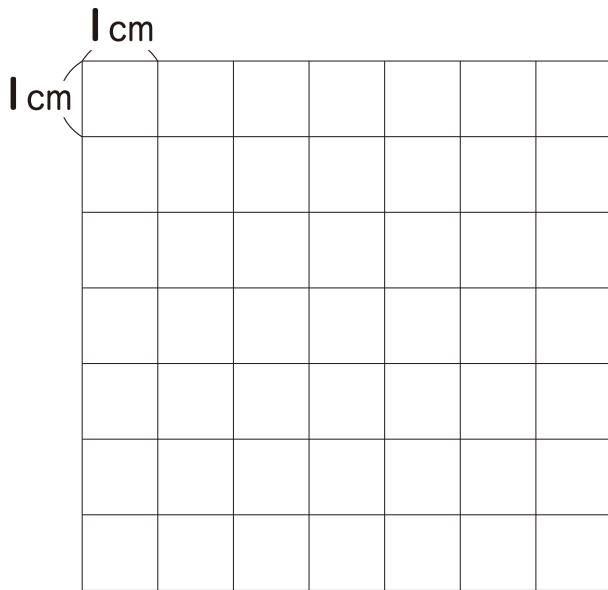
ばん

s\_zu204\_1


◆ つぎの <sup>かたち</sup>形をかきましょう。

① 1つの <sup>へん</sup>の <sup>なが</sup>長さが 4cmの <sup>せいほうけい</sup>正方形

② 1つの <sup>へん</sup>の <sup>なが</sup>長さが 5cmの 正方形



③ 3つの <sup>へん</sup>をかきたして、正方形をかきましょう。



正方形の  
4つの <sup>へん</sup>の  
長さは、みんな  
同じだね。

さんすう

直角三角形をかこう

なまえ


くみ

ばん

s\_zu205\_1

◆ つぎの <sup>かたち</sup>形をかきましょう。

① 5cmの <sup>へん</sup>と 7cmの <sup>へん</sup>の <sup>あいだ</sup>間に、<sup>ちよっかく</sup>直角の <sup>かど</sup>かどがある <sup>ちよっかくさんかくけい</sup>直角三角形



直角の <sup>かど</sup>かどがある <sup>さんかく</sup>三角形を <sup>ちよっかくさんかくけい</sup>直角三角形というよ。

② 6cmの <sup>へん</sup>と 6cmの <sup>へん</sup>の <sup>あいだ</sup>間に、<sup>ちよっかく</sup>直角の <sup>かど</sup>かどがある <sup>ちよっかくさんかくけい</sup>直角三角形

