

さんすう

直線を ひこう

なまえ くり ばん



s_zu201_1


◆ つぎの ^{なが}長さの ^{ちよくせん}直線を |----から ひきましよう。

各25点(100点)

① 7cm



② 4cm5mm



③ 12cm8mm



④ 62mm



さんすう

三角形や 四角形をかこう

なまえ


くみ

ばん

s_zu202_1

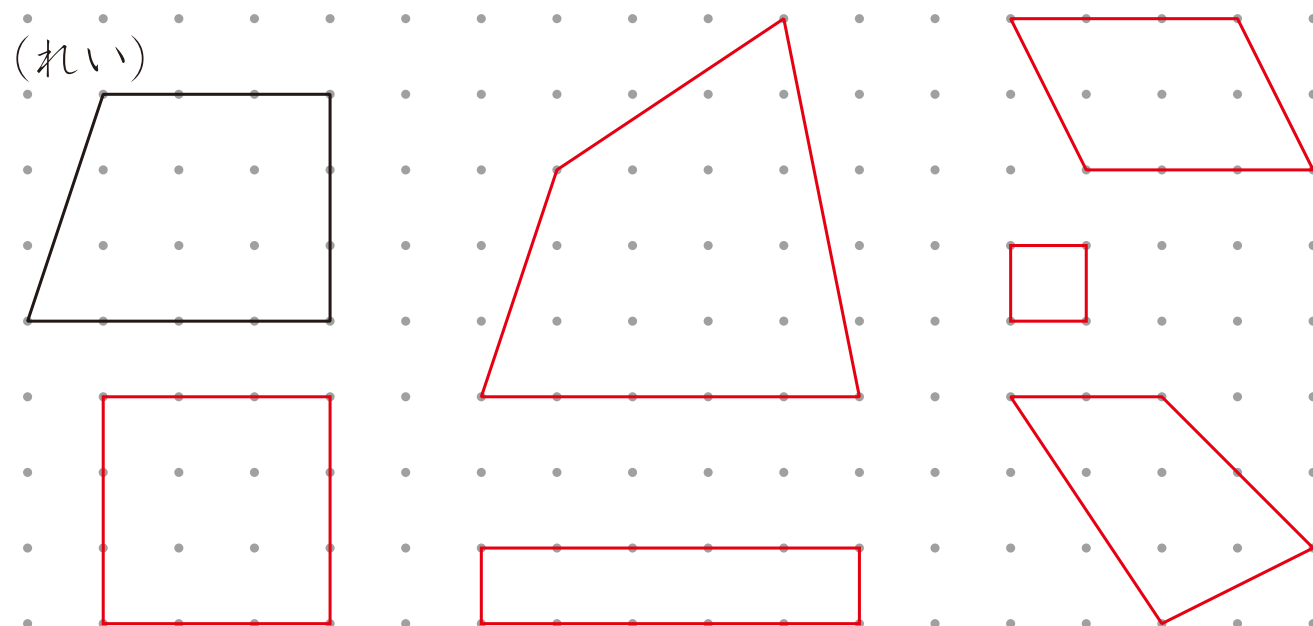
1 点と点を直線でつないで、三角形をあと2つかきましょう。

各25点(50点)



2 点と点を直線でつないで、四角形をあと2つかきましょう。

各25点(50点)



さんすう

長方形を かこう

な
ま
え

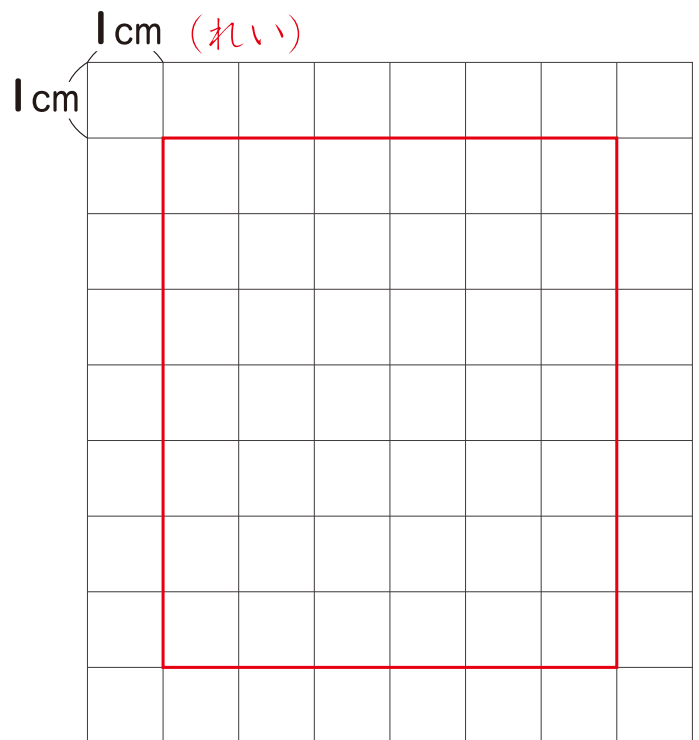
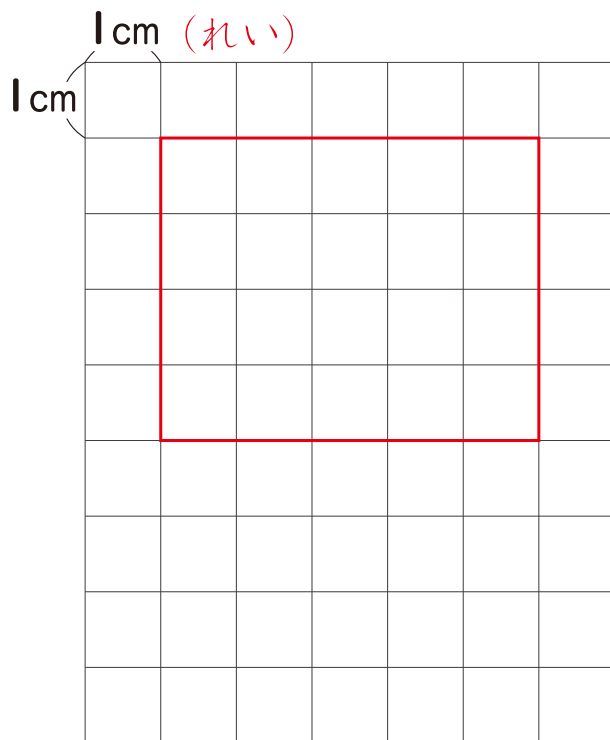
くみ

ばん

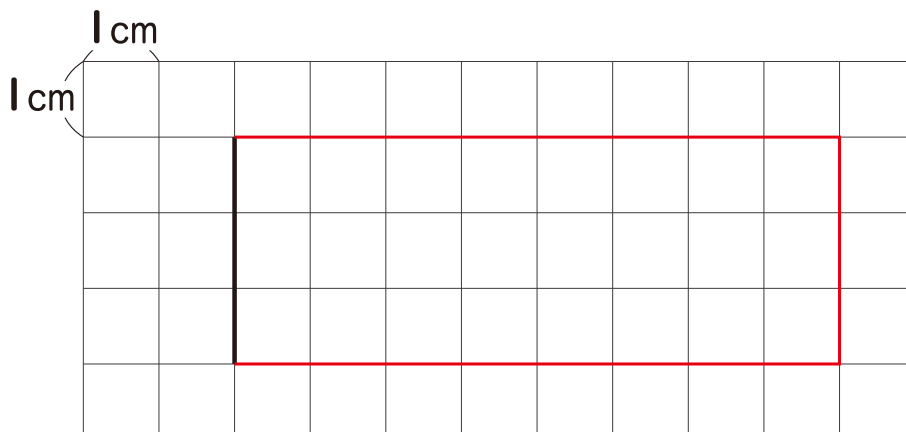
s_zu203_1

◆ つぎの ^{かたち} 形をかきましょう。

各30点(60点)

① たて 4cm, よこ 5cmの
ちようほうけい
長方形② たて 7cm, よこ 6cmの
長方形③ 3つの へんをかきたして, まわりの ^{なが} 長さが
22cmの 長方形をかきましょう。

(40点)



長方形の
むかい合っ
て いる
へんの 長
さは
おな
同じだね。

さんすう

正方形をかこう

なまえ

くみ

ばん

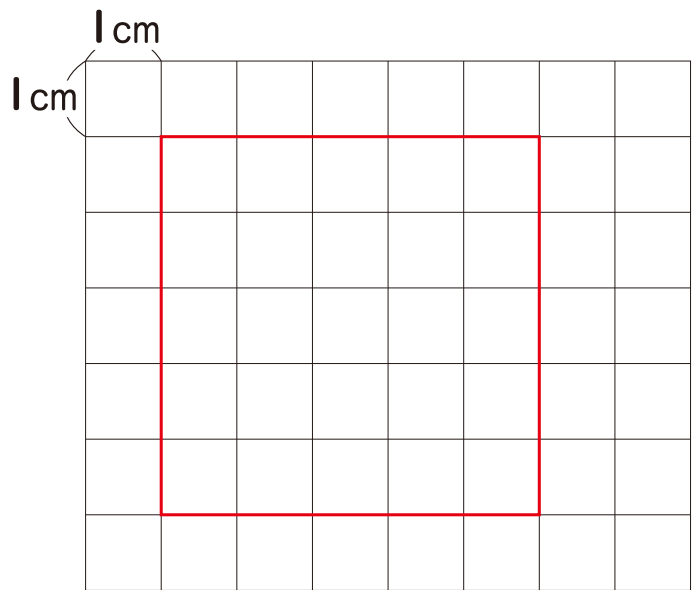
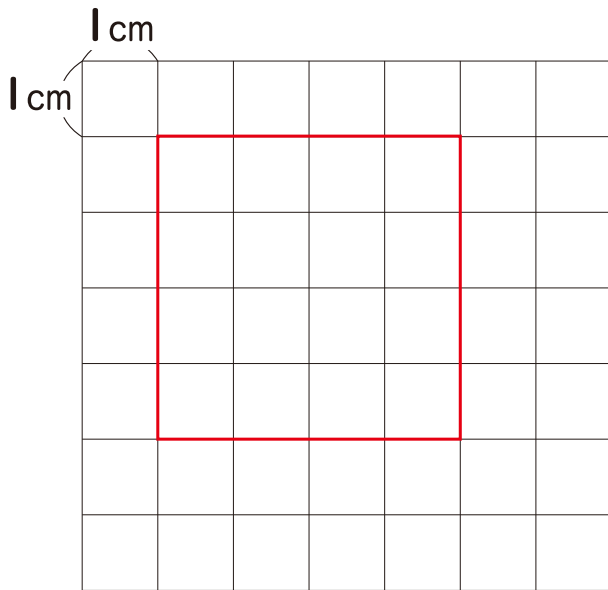
s_zu204_1

◆ つぎの ^{かたち}形をかきましょう。

各30点(60点)

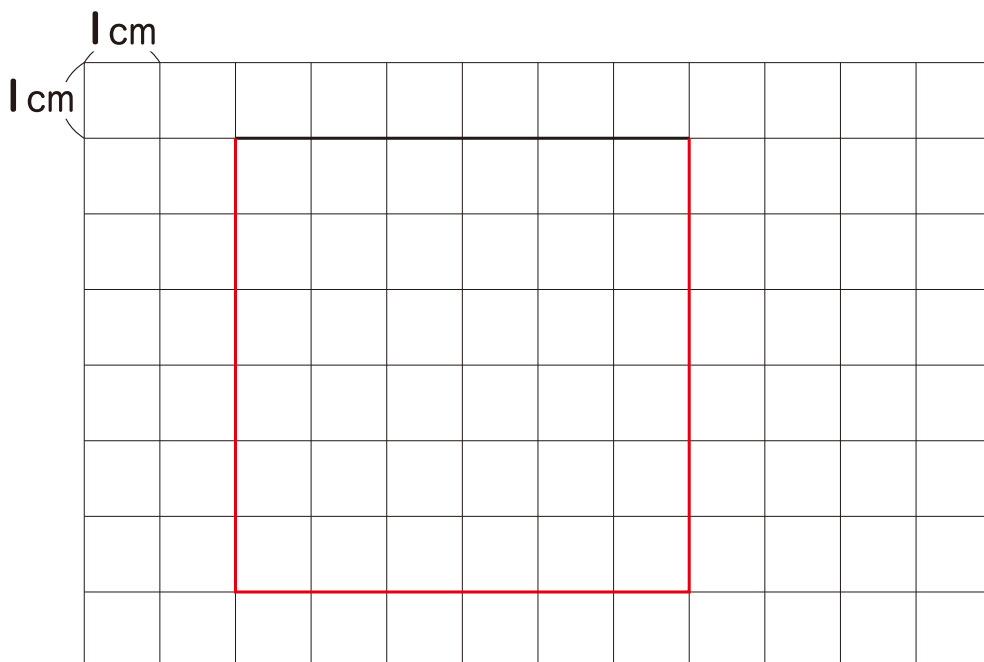
① 1つの ^{へん}の ^{なが}長さが
4cmの ^{せいほうけい}正方形

② 1つの ^{へん}の ^{なが}長さが
5cmの 正方形



③ 3つの ^{へん}をかきたして、正方形をかきましょう。

(40点)



正方形の
4つの ^{へん}の
長さは、みんな
同じだね。

さんすう

直角三角形をかこう

なまえ

くみ

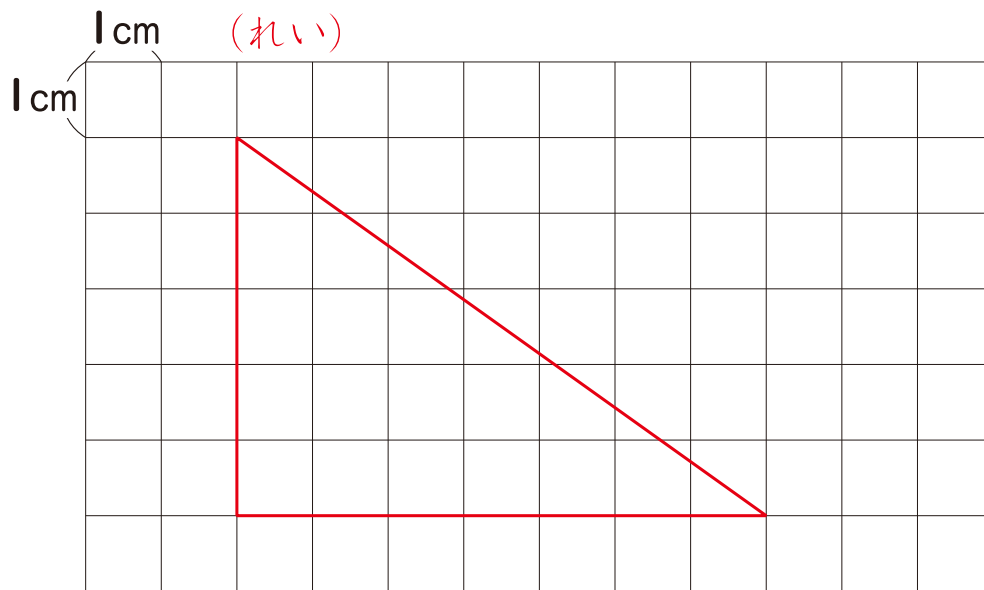
ばん

s_zu205_1

◆ つぎの ^{かたち}形をかきましょう。

(50点)

- ① 5cmの ^{へん}と 7cmの ^{へん}の ^{あいだ}間に、^{ちよっかく}直角の ^{かど}かどがある ^{ちよっかくさんかくけい}直角三角形



直角の ^{かど}かどがある ^{さんかく}三角形を ^{ちよっかくさんかくけい}直角三角形というよ。

- ② 6cmの ^{へん}と 6cmの ^{へん}の ^{あいだ}間に、^{ちよっかく}直角の ^{かど}かどがある ^{ちよっかくさんかくけい}直角三角形

(50点)

