


じしゃくのせいしつ

な
ま
え

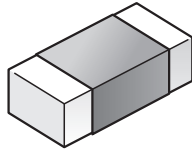
/8だい

1 じしゃくにつくものをしらべました。

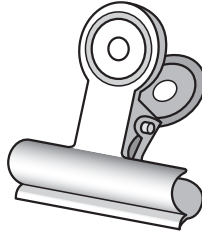
① じしゃくにつくものに○，じしゃくにつかないものに×をつけましょう。




アルミニウムはく



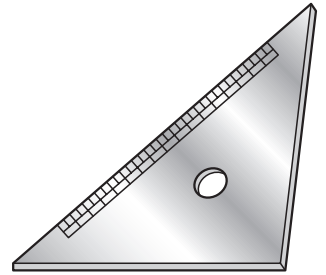
けしゴム



クリップ(鉄)



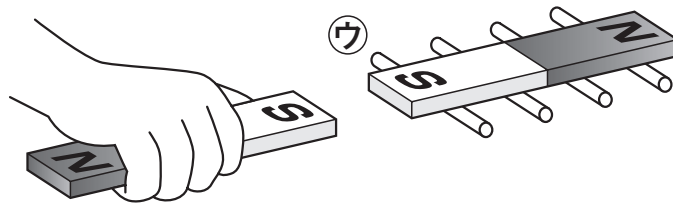
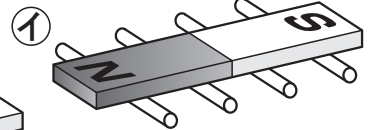

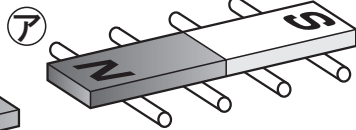

コップ(ガラス)



じょうぎ(プラスチック)

② じしゃくにつくものは、何でできていますか。 ()

2 ころがるようにしたじしゃくに、べつのじしゃくを近づけました。



① 手にもったじしゃくに引きつけられるのは、アイウのどれですか。

② じしゃくのきょくのせいしつについて、正しいほうに○をつけましょう。

() おなじきょくどうしは
引き合う。

() ちがうきょくどうしは
引き合う。

答え

1 ① 左から × × ○ × × ② 鉄

2 ① ① ② 右に○